

*Il n'est pas nécessaire de toute traiter pour avoir une bonne note.
 Les exercices sont indépendants et peuvent être traités dans l'ordre qu'on voudra.
 On peut admettre des résultats des questions précédentes en le signalant.
 Enfin, les résultats doivent être encadrés ou soulignés. Merci de soigner la rédaction.
 LES CALCULATRICES SONT INTERDITES*

Exercice 1

1. Soit $\alpha \in \mathbf{R}$ et $n \in \mathbf{N}^*$. Résoudre dans \mathbf{C} l'équation $\left(\frac{z-1}{z+1}\right)^n + \left(\frac{z+1}{z-1}\right)^n = 2 \cos(\alpha)$.
2. Résoudre dans \mathbf{C} l'équation $z^4 + 4iz^2 + 12(1+i)z - 45 = 0$ en recherchant d'abord les solutions réelles et les solutions imaginaires pures.

Exercice 2

1. Résoudre l'équation, pour x réel, $\sin(x) + \sqrt{3} \cos(x) = -1$.
2. Calculer le nombre $A = \arctan\left(\frac{1}{7}\right) + 2 \arctan\left(\frac{1}{3}\right)$.
3. Résoudre l'équation en x , $2 \operatorname{argsh}(x) + \operatorname{argth}(1/2) = \operatorname{argch}(3)$.

Exercice 3

Soit f la fonction de \mathbf{R}^* dans \mathbf{R} définie par la formule $xf(x) = \arctan(x)$.

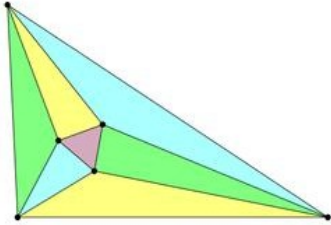
1. Rappeler la formule donnant $\arctan(x)$ pour x petit et en déduire une valeur naturelle pour $f(0)$.
2. Étudier f et donner l'allure de sa courbe représentative dans un repère orthogonal en prenant 2cm comme unité sur l'axe des abscisses et 10cm sur l'axe des ordonnées.
3. Soit F une fonction vérifiant $F' = f$ et $F(0) = 0$ (on ne demande pas de prouver son existence, ni de la construire). Soit G la fonction de \mathbf{R}^* dans \mathbf{R} définie par la formule $xG(x) = F(x)$. Donner une valeur naturelle pour $G(0)$.
4. Montrer, pour tout réel x , $f(x) \leq G(x) \leq 1$, en déduire que G est dérivable en 0 et préciser la valeur de $G'(0)$.
5. Établir que G est une solution sur \mathbf{R} de l'équation (en la fonction y) $x^2y' + xy = \arctan(x)$.
6. Terminer l'étude de G et donner l'allure de sa courbe représentative sur le même graphique que précédemment.

Exercice 4

1. Soit $\theta \in \mathbf{R}$ et P_m le polynôme $\binom{2m+1}{1}x^m - \binom{2m+1}{3}x^{m-1} + \dots + (-1)^m$. Démontrer $\frac{\sin((2m+1)\theta)}{\sin^{2m+1}(\theta)} = P_m(\cot^2 \theta)$. (On pourra utiliser la formule de De Moivre.)
2. Expliciter les racines de P_m et en déduire $\sum_{k=1}^m \cot^2 \frac{k\pi}{2m+1} = \frac{m(2m-1)}{3}$.
3. Montrer, pour tout $x \in]0, \frac{\pi}{2}[$, $\cot^2(x) \leq x^{-2} \leq 1 + \cot^2(x)$ et en déduire la valeur de $\sum_{k=1}^{+\infty} \frac{1}{k^2}$.

Problème

Dans ce problème on donne une démonstration du théorème suivant (théorème de Frank Morley) :




Les intersections des trissectrices intérieures des angles d'un triangle forment un triangle équilatéral.

Les trissectrices d'un triangle sont les droites obtenues en divisant l'angle au sommet en trois, tout comme les bissectrices le divisent en deux.

On note ρ le nombre complexe $e^{2i\pi/3}$ et on se donne A , B et C des points du plan d'affixes respectives a , b et c . On note α , β et γ les angles (AB, AC) , (BC, BA) et (CA, CB) .

1. Montrer $1 + \rho + \rho^2 = 0$.
2. Donner l'expression, en tant que transformations complexes, des rotations de centre A et d'angle $\pm\pi/3$. En déduire que le triangle (ABC) est équilatéral si et seulement si l'une des propriétés suivantes est vérifiée :
 - (a) $\frac{c-a}{b-a} = -\rho$ ou $\frac{c-a}{b-a} = -\rho^2$;
 - (b) $c + \rho b + \rho^2 a = 0$ ou $c + \rho a + \rho^2 b = 0$;
 - (c) $a^2 + b^2 + c^2 - ab - bc - ca = 0$.
3. Soit u un élément du groupe des unités complexes \mathbf{U} . Montrer que l'application $z \mapsto a + u(\bar{z} - \bar{a})$ est une symétrie axiale et préciser son axe de symétrie.
4. Exprimer en termes complexes les symétries σ_{AB} , σ_{BC} et σ_{CA} par rapport aux côtés du triangle (ABC) .
5. Exprimer en termes complexes les transformations $\rho_A = \sigma_{CA}\sigma_{AB}$, $\rho_B = \sigma_{AB}\sigma_{BC}$ et $\rho_C = \sigma_{BC}\sigma_{CA}$ et montrer que ce sont des rotations dont on précisera les centres et angles.
6. Exprimer en termes complexes la rotation r_A de même centre que ρ_A et d'angle $2\alpha/3$. Faire de même pour exprimer r_B et r_C , en remplaçant A par B et C , ainsi que α par β et γ .
7. Montrer que l'équation $r_A r_B(z) = z$ admet comme unique solution le point d'intersection de deux trissectrices du triangle (ABC) que l'on précisera. On notera z_C son affixe. On fera de même avec $r_B r_C(z) = z$ et $r_C r_A(z) = z$ dont on notera les uniques solutions z_A et z_B .
8. Montrer, en utilisant les symétries σ , que $r_A^3 r_B^3 r_C^3$ est égal à l'identité.
9. En exprimant la transformation complexe, montrer que $r_A^3 r_B^3 r_C^3$ est l'identité si et seulement si $z_C + \rho z_A + \rho^2 z_B = 0$.
10. En déduire le théorème de Morley.

Question subsidiaire : qui sont ces quatre personnes ?



Exercice 1

1. L'équation dont on cherche les solutions n'a de sens que pour z distinct de 1 et -1 . Soit donc z dans \mathbf{C} distinct de 1 et -1 . On pose $u = (z-1)^n/(z+1)^n$. L'équation $\left(\frac{z-1}{z+1}\right)^n + \left(\frac{z+1}{z-1}\right)^n = 2 \cos(\alpha)$ s'écrit alors $u+u^{-1} = 2 \cos(\alpha)$. Comme $z \neq 1$, u est non nul et donc l'équation précédente est équivalente à $u^2 - 2 \cos(\alpha)u + 1 = 0$ ou encore $(u - e^{i\alpha})(u - e^{-i\alpha}) = 0$. Il en résulte que $(z-1)/(z+1)$ est une racine n^e de $e^{i\alpha}$ ou de $e^{-i\alpha}$, i.e. est égal à $e^{i\theta}$ avec $\theta \equiv \pm\alpha/n$ modulo $2\pi/n$. Enfin

$$\frac{z-1}{z+1} = e^{i\theta} \Leftrightarrow z(1 - e^{i\theta}) = 1 + e^{i\theta} \Leftrightarrow z = \frac{1 + e^{i\theta}}{1 - e^{i\theta}} \Leftrightarrow z = \frac{e^{i\theta/2}(e^{-i\theta/2} + e^{i\theta/2})}{e^{i\theta/2}(e^{-i\theta/2} - e^{i\theta/2})} \Leftrightarrow z = i \cot(\theta/2).$$

Les solutions de $\left(\frac{z-1}{z+1}\right)^n + \left(\frac{z+1}{z-1}\right)^n = 2 \cos(\alpha)$ sont les imaginaires purs de la forme $i \cot(\beta)$ avec $\beta = \pm(\alpha + 2k\pi)/2n$, pour k entier compris entre 0 et $n-1$. Il y a donc au plus $2n$ solutions, mais pour certaines valeurs de α , il y en a qui coïncident parmi les valeurs trouvées précédemment.

2. Pour z réel, l'équation s'écrit, en séparant parties imaginaire et réelle : $z^4 + 12z - 45 = 4z^2 + 12z = 0$. La seconde équation admet 0 et -3 comme solutions et seul -3 est également solution de la première équation. Par conséquent -3 est solution de $z^4 + 4iz^2 + 12(1+i)z - 45 = 0$.
 Pour z imaginaire pur, écrivons $z = it$ avec t réel. L'équation se réécrit alors : $t^4 - 12t - 45 = -4t^2 + 12t = 0$. Les solutions de la seconde équation sont 0 et 3 et seul 3 est également solution de la première équation. Par conséquent $3i$ est solution de $z^4 + 4iz^2 + 12(1+i)z - 45 = 0$.
 On a $(z+3)(z-3i) = z^2 + 3(1-i)z - 9i$ et $z^4 + 4iz^2 + 12(1+i)z - 45 = (z^2 + 3(1-i)z - 9i)(z^2 - 3(1-i)z - 5i)$. De plus le discriminant du trinôme $z^2 - 3(1-i)z - 5i$ est $9(1-i)^2 + 20i$, soit $2i$, dont une racine carrée est $1+i$. Il en résulte que les solutions de $z^2 - 3(1-i)z - 5i = 0$ sont $(3(1-i) \pm (1+i))/2$, i.e. $2-i$ et $1-2i$.

Il vient :

les solutions dans \mathbf{C} de l'équation $z^4 + 4iz^2 + 12(1+i)z - 45 = 0$ sont $-3, 3i, 2-i$ et $1-2i$.

Exercice 2

1. L'équation, pour x réel, $\sin(x) + \sqrt{3} \cos(x) = -1$ est équivalente à

$$\frac{1}{2} \sin(x) + \frac{\sqrt{3}}{2} \cos(x) = -\frac{1}{2}$$

i.e. à

$$\cos(\pi/3) \sin(x) + \sin(\pi/3) \cos(x) = \sin(-\pi/6)$$

ou encore

$$\sin(x + \pi/3) = \sin(-\pi/6).$$

Il en résulte que les solutions sont celles de $x + \pi/3 = -\pi/6$ modulo 2π et de $x + \pi/3 = \pi + \pi/6$ modulo 2π .

L'équation, pour x réel, $\sin(x) + \sqrt{3} \cos(x) = -1$ admet comme solutions $x = -\pi/2$ modulo 2π et $x = 5\pi/6$ modulo 2π .

2. On commence par calculer la tangente de A grâce à la formule d'addition de tangente, pour a et b réels,

$$\tan(a+b) = \frac{\tan(a) + \tan(b)}{1 - \tan(a)\tan(b)} \quad \text{et} \quad \tan(2a) = \frac{2\tan(a)}{1 - \tan^2(a)}.$$

En notant $a = \arctan\left(\frac{1}{7}\right)$ et $b = \arctan\left(\frac{1}{3}\right)$, il vient

$$\tan(A) = \tan(a+2b) = \frac{\tan(a) + \tan(2b)}{1 - \tan(a)\tan(2b)}$$

avec $\tan(2b) = (2/3)/(1 - 1/9) = 3/4$ et $\tan(a) = 1/7$, donc

$$\tan(A) = \frac{\frac{1}{7} + \frac{3}{4}}{1 - \frac{3}{28}} = \frac{4 + 3 \times 7}{28 - 3} = 1.$$

Il en résulte que A est égal à $\pi/4$ à un multiple entier de π près. Or, par définition et par croissance de l'arctangente, $0 \leq a \leq \pi/4$ et $0 \leq b \leq \pi/4$ puisque $0 \leq \tan(a) \leq 1$ et $0 \leq \tan(b) \leq 1$. Par conséquent $0 \leq A = a + 2b \leq 3\pi/4$ et ainsi $A = \pi/4$.

Le nombre $\arctan\left(\frac{1}{7}\right) + 2\arctan\left(\frac{1}{3}\right)$ est égal à $\frac{\pi}{4}$.

3. Notons $u = \operatorname{argch}(3)$ et $v = \operatorname{argth}(1/2)$. On a donc $\operatorname{ch}(u) = 3$ et $\operatorname{sh}^2(u) = \operatorname{ch}^2(u) - 1 = 8$. Comme u est positif, par définition de l'argument cosinus hyperbolique, $\operatorname{sh}(u) = 2\sqrt{2}$. On a également $1 - \operatorname{th}^2(v) = \operatorname{ch}^{-2}(v)$ et donc $\operatorname{ch}(v) = 1/\sqrt{1 - 1/4} = 2/\sqrt{3}$. Il en résulte $\operatorname{sh}(v) = \operatorname{th}(v)\operatorname{ch}(v) = 1/\sqrt{3}$.

La formule d'addition pour le sinus hyperbolique s'écrit, pour a et b réels,

$$\operatorname{sh}(a+b) = \operatorname{sh}(a)\operatorname{ch}(b) + \operatorname{sh}(b)\operatorname{ch}(a) \quad \text{et} \quad \operatorname{sh}(2a) = 2\operatorname{sh}(a)\operatorname{ch}(a).$$

Soit maintenant x un réel et $t = \operatorname{argsh}(x)$. On a, par bijectivité de la fonction sinus hyperbolique,

$$2\operatorname{argsh}(x) + \operatorname{argth}(1/2) = \operatorname{argch}(3) \Leftrightarrow 2t = u - v \Leftrightarrow 2\operatorname{sh}(t)\operatorname{ch}(t) = \operatorname{sh}(u)\operatorname{ch}(v) - \operatorname{sh}(v)\operatorname{ch}(u).$$

Or $\operatorname{ch}(t) = \sqrt{1 + \operatorname{sh}^2(t)} = \sqrt{1 + x^2}$ et donc

$$2\operatorname{argsh}(x) + \operatorname{argth}(1/2) = \operatorname{argch}(3) \Leftrightarrow 2x\sqrt{1+x^2} = \frac{4\sqrt{2}}{\sqrt{3}} - \sqrt{3} = \frac{4\sqrt{6} - 3\sqrt{3}}{3}.$$

On note $w = (4\sqrt{6} - 3\sqrt{3})/3$. L'équation précédente équivaut à la positivité de x et à $4x^2(1+x^2) = w^2$. Cette dernière équation est équivalente à $x^2 = (-2 \pm \sqrt{4 + 4w^2})/4$, i.e. $x^2 = (\sqrt{1 + w^2} - 1)/2$ puisque le choix d'un signe moins est incompatible avec la positivité de x^2 . Par positivité de x , on a donc

$$2\operatorname{argsh}(x) + \operatorname{argth}(1/2) = \operatorname{argch}(3) \Leftrightarrow x = \sqrt{\frac{\sqrt{1+w^2} - 1}{2}} = \sqrt{\frac{\sqrt{33 - 18\sqrt{2}}}{3} - \frac{1}{2}}.$$

L'équation en x , $2\operatorname{argsh}(x) + \operatorname{argth}(1/2) = \operatorname{argch}(3)$, admet $x = \frac{1}{6}\sqrt{12\sqrt{33 - 18\sqrt{2}} - 18}$ comme unique solution. On a $x \simeq 0.645$.

Remarque : avec l'expression logarithmique, on peut aussi résoudre l'équation. On a $u = \ln(3 + \sqrt{8})$ et $v = \frac{1}{2} \ln(3)$, donc $\exp(u/2) = \sqrt{3 + 2\sqrt{2}}$ et $\exp(v/2) = \sqrt[4]{3}$. D'où

$$x = \operatorname{sh}((u - v)/2) = \frac{\exp((u - v)/2) - \exp((v - u)/2)}{2} = \frac{3 + 2\sqrt{2} - \sqrt{3}}{2\sqrt{3 + 2\sqrt{2}}\sqrt[4]{3}}.$$

On peut montrer qu'il s'agit bien du même nombre !

Exercice 3

Soit f la fonction de \mathbf{R}^* dans \mathbf{R} définie par la formule $xf(x) = \arctan(x)$.

1. On a $\arctan(x) \simeq x - x^3/3 + \dots$, d'après la formule de James Gregory. Et donc $\arctan(x) \simeq x(1 - x^2/3) + \dots$, ce qui permet de donner $f(0) = 1$ comme valeur naturelle.

La formule donnant $\arctan(x)$ pour x petit est $\arctan(x) \simeq x - x^3/3 + \dots$ et une valeur naturelle pour $f(0)$ est 1.

2. Pour x non nul, on a $f(x) = \arctan(x)/x$ et donc f est un quotient de deux fonctions indéfiniment dérivables sur \mathbf{R}^* et ne s'y annulant pas. C'est donc une fonction indéfiniment dérivable sur \mathbf{R}^* . Comme arctangente est impaire, f est donc paire. Il suffit donc de l'étudier sur \mathbf{R}_+ . On peut remarquer que f est strictement positive sur \mathbf{R} .

Comme \arctan est concave sur \mathbf{R}_+ , f y est décroissante puisque $f(x)$ représente la pente de la droite joignant $(0, 0)$ à $(x, \arctan(x))$. Par parité, f est croissante sur \mathbf{R}_- .

La dérivée de f est donnée par la formule $x \mapsto 1/x(1 + x^2) - \arctan(x)/x^2$ sur \mathbf{R}^* . Comme on a, pour x non nul, $(f(x) - f(0))/x = (f(x) - 1)/x = (\arctan(x) - x)/x^2 \simeq -x/3$, f est dérivable en 0, de dérivée nulle.

Remarque : en étudiant la fonction donnée par $\varphi : x \mapsto x^2 f'(x) = x/(1 + x^2) - \arctan(x)$, on peut montrer que φ est négative sur \mathbf{R}_+ . En effet, pour $x \in \mathbf{R}_+$, $\varphi'(x) = -2x^2/(1 + x^2)$ et donc φ est décroissante. Comme $\varphi(0) = 0$, on en déduit le signe de φ et donc celui de f' .

Pour étudier la concavité de f , il faut étudier le signe de f'' sur \mathbf{R}_+ . Or f'' est la fonction $x \mapsto 2 \arctan(x)/x^3 - 2/x^2(1 + x^2) - 2/(1 + x^2)^2$. Soit ψ la fonction sur \mathbf{R}_+ donnée par $\psi(x) = x^3 f''(x) = 2 \arctan(x) - 2x/(1 + x^2) - 2x^3/(1 + x^2)^2$. Elle est de classe C^∞ et sa dérivée est la fonction $x \mapsto \frac{6x^4 - 2x^2}{(1 + x^2)^3}$. Cette dernière s'annule donc en 0 et $1/\sqrt{3}$. En fait ψ' est négative entre

0 et $1/\sqrt{3}$ et positive en dehors de cet intervalle. Il en résulte que ψ est décroissante et positive sur $[0; 1/\sqrt{3}]$. En dehors de cet intervalle ψ est croissante et tend vers l'infini en l'infini. Il en résulte que ψ s'annule une fois en dehors de cet intervalle. Notons α cette valeur. Par conséquent ψ est positive sur $[\alpha; +\infty[$ et s'annule en α et 0. On en déduit, par parité, que f'' est positive sur $] -\infty; -\alpha]$ et $[\alpha; +\infty[$, et qu'elle s'annule en $\pm\alpha$. Remarquons qu'on a $f''(1) = (\pi - 3)/2 \geq 0$ et donc $\alpha \leq 1$.

En résumé f est concave sur $[-\alpha; \alpha]$ et convexe ailleurs, avec $1/\sqrt{3} \leq \alpha \leq 1$.

Enfin puisque la fonction arctangente a une limite finie en l'infini, f admet une asymptote horizontale en $\pm\infty$.

On calcule enfin quelques valeurs spéciales : $f(0) = 1$, $f'(0) = 0$, $f(1/\sqrt{3}) = \sqrt{3}\pi/6 \simeq 0.91$, $f'(1/\sqrt{3}) = 3\sqrt{3}/4 - \pi/2 \simeq -0.27$, $f(1) = \pi/4 \simeq 0.79$, $f'(1) = 1/2 - \pi/4 \simeq -0.29$.

La fonction f est définie (par prolongement) sur \mathbf{R} . Elle y est continue et dérivable, sa valeur en 0 étant 1 et sa dérivée y étant nulle. Elle est de classe C^∞ sur \mathbf{R}^* , paire. Elle est croissante sur \mathbf{R}_- et décroissante sur \mathbf{R}_+ , admet un maximum en 0 (de valeur 1), est toujours strictement positive et admet des asymptotes horizontales en $\pm\infty$. Enfin f est concave sur $[-\alpha; \alpha]$ et convexe ailleurs, pour un certain α tel que $1/\sqrt{3} \leq \alpha \leq 1$. Par ailleurs $f(0) = 1$, $f'(0) = 0$, $f(1/\sqrt{3}) = \sqrt{3}\pi/6 \simeq 0.91$, $f'(1/\sqrt{3}) = 3\sqrt{3}/4 - \pi/2 \simeq -0.27$, $f(1) = \pi/4 \simeq 0.79$, $f'(1) = 1/2 - \pi/4 \simeq -0.29$.

3. Par définition, on a $f(x) \simeq 1 - x^2/3 + \dots$ et donc, par intégration et puisque $F(0) = 0$, $F(x) \simeq x - x^3/9 + \dots = x(1 - x^2/9 + \dots)$. Par conséquent

une valeur naturelle pour $G(0)$ est 1.

4. Comme f est paire et $F(0) = 0$, F est impaire : la fonction $x \mapsto F(x) + F(-x)$ est de dérivée nulle et s'annule en 0, et est donc constante et égale à 0. Par conséquent G est paire.

Sur \mathbf{R}^* , G est quotient de deux fonctions indéfiniment dérivables ne s'annulant pas et l'est donc également. De plus, pour $x \in \mathbf{R}_+$, on a $xG(x) = F(x)$ et donc $xG'(x) + G(x) = f(x)$ ou encore $f(x) - G(x) = xG'(x)$. Mais on a aussi, toujours pour $x \in \mathbf{R}_+$, $G'(x) = (xf(x) - F(x))/x^2$. Soit donc χ la fonction définie sur \mathbf{R} par $\chi(x) = xf(x) - F(x)$, c'est une fonction de classe C^∞ et on a, pour $x \in \mathbf{R}$, $\chi'(x) = xf'(x)$ et donc χ' est négative sur \mathbf{R}_+ . Comme $\chi(0) = 0$, χ est donc négative sur \mathbf{R}_+ et donc G' aussi. Autrement dit G est décroissante sur \mathbf{R}_+ et $f - G$ est donc négative sur \mathbf{R}_+ . Par parité de f et G et puisque $f(0) = G(0) = 1$, il en résulte $f \leq G$ sur \mathbf{R} .

Enfin, prolongée par 1 en 0, G est continue et donc, par décroissance sur \mathbf{R}_+ , donc sur \mathbf{R}_+ , on a $G \leq G(0) = 1$ sur \mathbf{R}_+ . Par parité il en résulte que, pour tout x réel, $f(x) \leq G(x) \leq 1$.

Soit maintenant x un réel non nul. En retranchant 1 et divisant par x à l'inégalité précédente, on déduit que le taux d'accroissement $(G(x) - G(0))/x$ est compris entre 0 et le taux d'accroissement $(f(x) - f(0))/x$. Comme ce dernier tend vers $f'(0)$, i.e. 0, lorsque x tend vers 0, le théorème d'encadrement des limites montre que le taux d'accroissement $(G(x) - G(0))/x$ tend vers 0 quand x tend vers 0, i.e. que G est dérivable en 0, de dérivée nulle.

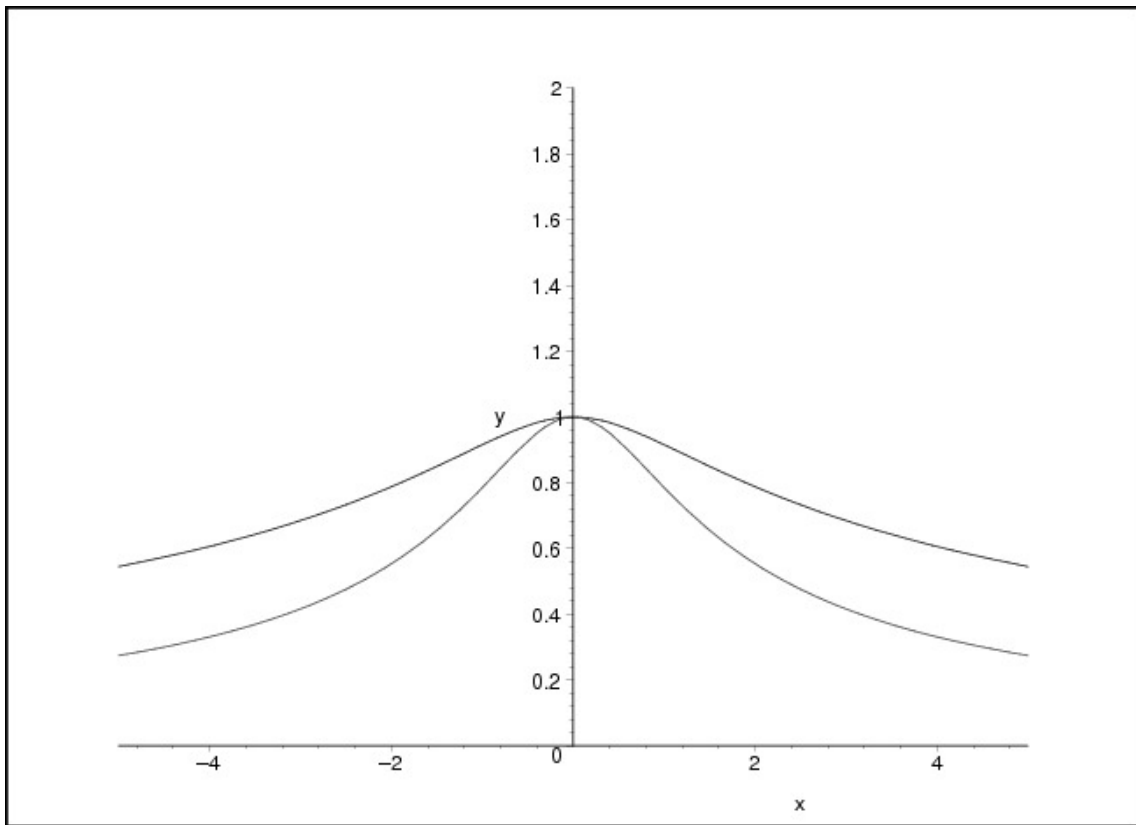
Pour tout réel x , $f(x) \leq G(x) \leq 1$, G est dérivable en 0 et de plus $G'(0) = 0$.

5. Pour x non nul on a $x^2G'(x) + xG(x) = x(xG'(x) + G(x)) = xf(x) = \arctan(x)$ et cette égalité est encore vraie pour x nul. De plus G est bien dérivable sur \mathbf{R} . Il en résulte que

G est une solution sur \mathbf{R} de l'équation (en la fonction y) $x^2y' + xy = \arctan(x)$.

6. Pour étudier la concavité de G , on écrit, pour $x \in \mathbf{R}_+$, $G'(x) = (xf(x) - F(x))/x^2 = (\arctan(x) - F(x))/x^2$ et donc $G''(x) = (x^2(1/(1+x^2) - f(x)) - 2x(\arctan(x) - F(x)))/x^4$, de sorte que $x^3G''(x) = \frac{x}{1+x^2} - 3\arctan(x) + 2F(x)$. Soit donc τ cette dernière fonction. C'est une fonction de classe C^∞ sur \mathbf{R} et, pour x réel, on a $\tau'(x) = -2x^2/(1+x^2)^2 - 2/(1+x^2) + 2f(x)$ ou encore $\frac{x\tau'(x)}{2} = \arctan(x) - \frac{x}{1+x^2} - \frac{x^3}{(1+x^2)^2}$. Soit enfin σ cette dernière fonction et calculons $\sigma'(x) = x^2(3x^2 - 1)/(1+x^2)^3$, de sorte que σ est décroissante sur $[0; 1/\sqrt{3}]$ et croissante sur $[1/\sqrt{3}; +\infty[$. Donc σ est négative sur $[0; \beta]$, positive sur $[\beta; +\infty[$ et ne s'annule qu'en 0 et β , pour un certain β compris entre $1/\sqrt{3}$ et 1 (puisque $\sigma(1) = (\pi - 3)/4 > 0$). Par conséquent τ est décroissante puis croissante, et donc négative puis positive. Il en va de même pour G'' et donc G admet un unique changement de convexité. On peut également montrer qu'elle admet une asymptote horizontale en l'infini.

La fonction G est définie (par prolongement) sur \mathbf{R} . Elle y est continue et dérivable, sa valeur en 0 étant 1 et sa dérivée y étant nulle. Elle est de classe C^∞ sur \mathbf{R}^* , paire. Elle est croissante sur \mathbf{R}_- et décroissante sur \mathbf{R}_+ , admet un maximum en 0 (de valeur 1), est toujours strictement positive et admet des asymptotes horizontales en $\pm\infty$. Par ailleurs $G(0) = 1$, $G'(0) = 0$, $G(1/\sqrt{3}) \simeq 0.97$, $G'(1/\sqrt{3}) \simeq -0.10$, $G(1) \simeq 0.92$, $G'(1) \simeq -0.13$.



Exercice 4

1. D'après la formule de De Moivre, ou encore $e^{i(2m+1)\theta} = (\cos(\theta) + i \sin(\theta))^{2m+1}$, il vient, en prenant les parties imaginaires, que $\sin((2m+1)\theta)$ est égal à

$$\binom{2m+1}{1} \cos^{2m}(\theta) \sin(\theta) - \binom{2m+1}{3} \cos^{2m-2}(\theta) \sin^3(\theta) + \dots + (-1)^m \sin^{2m+1}(\theta)$$

et donc, en divisant par $\sin^{2m+1}(\theta)$ (et en supposant que cette quantité est non nulle), il vient

$$\text{Pour } \theta \text{ dans } \mathbf{R} \setminus \pi\mathbf{Z}, \text{ on a } \frac{\sin((2m+1)\theta)}{\sin^{2m+1}(\theta)} = P_m(\cot^2 \theta).$$

2. D'après l'expression précédente $\cot^2(k\pi/(2m+1))$ est une racine de P_m pour k entier compris entre 1 et m . Puisque les nombres $k\pi/(2m+1)$ sont tous différents et dans $]0; \pi/2[$, leurs cotangentes sont toutes positives et différentes, donc les quantités $\cot^2(k\pi/(2m+1))$ sont toutes

différentes. Comme P_m est de degré m , il a au plus m racines et ce sont donc exactement ces quantités. Autrement dit

$$P_m(X) = \binom{2m+1}{1} (X - \cot^2(\pi/(2m+1))) (X - \cot^2(2\pi/(2m+1))) \cdots (X - \cot^2(m\pi/(2m+1)))$$

et donc, en comparant les termes de degré $m-1$,

$$-\binom{2m+1}{1} \sum_{k=1}^m \cot^2 \frac{k\pi}{2m+1} = -\binom{2m+1}{3}$$

et il vient :

$$\boxed{\text{les racines de } P_m \text{ sont les } \cot^2(k\pi/(2m+1)), \text{ pour } 1 \leq k \leq m, \text{ et } \sum_{k=1}^m \cot^2 \frac{k\pi}{2m+1} = \frac{m(2m-1)}{3}.}$$

3. La tangente en 0 au graphe de la fonction tangente est la première bissectrice. Par convexité, il en résulte que, pour tout $x \in]0, \frac{\pi}{2}[$, $x \leq \tan(x)$ et donc aussi $\cot^2(x) \leq x^{-2}$.

La fonction sinus est, elle, concave sur cet intervalle et sa tangente en 0 est aussi la première bissectrice. Il en résulte que, pour tout $x \in]0, \frac{\pi}{2}[$, $\sin(x) \leq x$ et donc aussi $x^{-2} \leq \sin^{-2}(x) = 1 + \cot^2(x)$.

En sommant les inégalités $\cot^2(x) \leq x^{-2} \leq 1 + \cot^2(x)$ pour $x = k\pi/(2m+1)$, il vient

$$\frac{m(2m-1)}{3} \leq \frac{(2m+1)^2}{\pi^2} \sum_{k=1}^m \frac{1}{k^2} \leq \frac{m(2m-1)}{3} + m$$

et donc

$$\frac{\pi^2}{3} \frac{m(2m-1)}{(2m+1)^2} \leq \sum_{k=1}^m \frac{1}{k^2} \leq \frac{\pi^2}{3} \frac{m(2m-1)}{(2m+1)^2} + \frac{m\pi^2}{(2m+1)^2}.$$

Or

$$\frac{m(2m-1)}{(2m+1)^2} = \frac{m^2(2-1/m)}{m^2(4+4/m+1/m^2)} = \frac{1}{2} \frac{1-1/2m}{1+1/m+1/3m^2}$$

admet $1/2$ comme limite quand m tend vers $+\infty$. De plus

$$\frac{m\pi^2}{(2m+1)^2} = \frac{\pi^2}{4m} \frac{1}{1+1/m+1/4m^2}$$

admet 0 comme limite quand m tend vers $+\infty$.

Donc chacun des termes extrêmes de l'encadrement tend vers $\pi^2/6$. Par encadrement des limites il en résulte que la somme $\sum_{k=1}^m \frac{1}{k^2}$ tend vers $\pi^2/6$ lorsque m tend vers $+\infty$.

$$\boxed{\text{Pour tout } x \in]0, \frac{\pi}{2}[, \cot^2(x) \leq x^{-2} \leq 1 + \cot^2(x) \text{ et } \sum_{k=1}^{+\infty} \frac{1}{k^2} = \frac{\pi^2}{6}.}$$

Problème

1. Comme ρ est une racine cubique de l'unité distincte de 1, on a

$$\boxed{1 + \rho + \rho^2 = 0.}$$

2. La rotation de centre $M(z_0)$ est d'angle θ s'écrit $z \mapsto z_0 + e^{i\theta}(z - z_0)$. Par conséquent

Les rotations de centre A et d'angle $\pm\pi/3$ sont données par $z \mapsto a + e^{\pm i\pi/3}(z - z_0)$.

Le triangle (ABC) est équilatéral si et seulement si C est l'image de B par une rotation d'angle $\pm\pi/3$, i.e. si et seulement si $c = a + e^{\pm i\pi/3}(b - a)$, i.e., puisque $a \neq b$, $(c - a)/(b - a) = e^{\pm i\pi/3}$. Comme $-\rho = e^{i\pi}e^{2i\pi/3} = e^{5i\pi/3} = e^{-i\pi/3}$ et $-\rho^2 = e^{i\pi}e^{-2i\pi/3} = e^{i\pi/3}$ le triangle (ABC) est donc équilatéral si et seulement si $\frac{c - a}{b - a} = -\rho$ ou $\frac{c - a}{b - a} = -\rho^2$.

Cette dernière condition s'écrit $c - a = -\rho(b - a)$ ou $c - a = -\rho^2(b - a)$, i.e. $c + \rho b - (1 + \rho)a = 0$ ou $c + \rho^2 b - (1 + \rho^2)a = 0$, i.e. (d'après la première question) $c + \rho b + \rho^2 a = 0$ ou $c + \rho a + \rho^2 b = 0$. Un produit de deux complexes étant nul si et seulement si l'un des deux est nul, cette dernière propriété est équivalente à

$$(c + \rho b + \rho^2 a)(c + \rho a + \rho^2 b) = 0,$$

i.e.

$$c^2 + b^2 + a^2 + bc(\rho + \rho^2) + ca(\rho + \rho^2) + ab(\rho^2 + \rho^4) = 0.$$

Comme $\rho^4 = \rho^3\rho = \rho$ et $\rho + \rho^2 = -1$, cette dernière propriété est équivalente à $a^2 + b^2 + c^2 - ab - bc - ca = 0$.

Le triangle (ABC) est équilatéral si et seulement si l'une des propriétés suivantes est vérifiée :

- (a) $\frac{c - a}{b - a} = -\rho$ ou $\frac{c - a}{b - a} = -\rho^2$;
- (b) $c + \rho b + \rho^2 a = 0$ ou $c + \rho a + \rho^2 b = 0$;
- (c) $a^2 + b^2 + c^2 - ab - bc - ca = 0$.

3. Soit u un élément du groupe des unités complexes \mathbf{U} et z un complexe distinct de a . On a : $a + u(\bar{z} - \bar{a}) = z$ si et seulement si $(z - a)/(\bar{z} - \bar{a}) = u$ ou encore $(z - a)^2/|z - a|^2 = u$, i.e. $(z - a)/|z - a|$ est une racine carrée de u . Soit donc v une racine carrée de u , on a

$$\frac{(z - a)^2}{|z - a|^2} = v^2 \Leftrightarrow \frac{(z - a)^2}{v^2} \in \mathbf{R}_+^* \Leftrightarrow \frac{z - a}{v} \in \mathbf{R}^*.$$

Autrement dit la transformation $z \mapsto a + u(\bar{z} - \bar{a})$ laisse invariants les points de la droite (D) passant par a et de vecteur directeur v (cette droite ne dépendant pas du choix de la racine carrée de u).

Pour montrer que la transformation $z \mapsto a + u(\bar{z} - \bar{a})$ est la symétrie axiale par rapport à la droite (D) , il suffit de montrer que, en notant $M'(z')$ le transformé de $M(z)$, $z' - z$ est perpendiculaire à (D) (i.e. $(z' - z)/v$ est imaginaire pur) et que $(z + z')/2$ est sur (D) .

Or

$$\begin{aligned} \frac{z + z'}{2} &= a + \frac{(z' - a) + (z - a)}{2} \\ &= a + \frac{v^2(\bar{z} - \bar{a}) + z - a}{2} \\ &= a + v \frac{v(\bar{z} - \bar{a}) + v^{-1}(z - a)}{2} \\ &= a + v \frac{v(\bar{z} - \bar{a}) + \bar{v}(z - a)}{2} \\ &= a + v \cdot \text{Re}(\bar{v}(z - a)) \end{aligned}$$

et donc $(z + z')/2$ appartient à la droite (D) , i.e. le milieu de (M, M') est sur (D) . Et de plus

$$\begin{aligned} z' - z &= (z' - a) - (z - a) \\ &= v^2(\bar{z} - \bar{a}) - (z - a) \\ &= v(v(\bar{z} - \bar{a}) - \bar{v}(z - a)) \\ &= -2iv.Im(\bar{v}(z - a)) \end{aligned}$$

et donc $z' - z$ est perpendiculaire à v , et il en résulte que M' est le symétrique de M par rapport à (D) .

L'application $z \mapsto a + u(\bar{z} - \bar{a})$ est une symétrie axiale par rapport à la droite passant par a et de vecteur directeur une racine carrée de u .

4. La droite (AB) est une droite passant par A et de vecteur directeur $(b-a)$. Afin de l'écrire comme précédemment, on choisit un vecteur directeur v qui soit dans \mathbf{U} . Par exemple $(b-a)/|b-a|$. Et alors la question précédente montre que les deux expressions

$$z \mapsto a + \frac{(b-a)^2(\bar{z} - \bar{a})}{|b-a|^2}$$

et

$$z \mapsto b + \frac{(b-a)^2(\bar{z} - \bar{b})}{|b-a|^2}$$

sont toutes les deux des expressions complexes de σ_{AB} . Par conséquent, en échangeant les rôles de A, B et C , il vient :

les symétries σ_{AB} , σ_{BC} et σ_{CA} s'expriment respectivement en termes complexes

$$\begin{aligned} z \mapsto a + \frac{(b-a)^2(\bar{z} - \bar{a})}{|b-a|^2} &\quad \text{ou} \quad z \mapsto b + \frac{(b-a)^2(\bar{z} - \bar{b})}{|b-a|^2} \\ z \mapsto b + \frac{(b-c)^2(\bar{z} - \bar{b})}{|b-c|^2} &\quad \text{ou} \quad z \mapsto c + \frac{(b-c)^2(\bar{z} - \bar{c})}{|b-c|^2} \\ z \mapsto a + \frac{(c-a)^2(\bar{z} - \bar{a})}{|c-a|^2} &\quad \text{ou} \quad z \mapsto c + \frac{(c-a)^2(\bar{z} - \bar{c})}{|c-a|^2} . \end{aligned}$$

5. D'après les premières expressions de σ_{AB} et σ_{CA} , on a

$$\rho_A(z) = a + \frac{(c-a)^2}{|c-a|^2} \left(\frac{(b-a)^2(\bar{z} - \bar{a})}{|b-a|^2} \right)$$

ou encore

$$\rho_A(z) = a + \frac{(c-a)^2(\bar{b} - \bar{a})^2}{|(c-a)(b-a)|^2}(z - a)$$

soit

$$\rho_A(z) = a + \frac{(c-a)^2 |b-a|^2}{(b-a)^2 |c-a|^2}(z - a)$$

et donc ρ_A est la rotation de centre A et d'angle $2 \arg((c - a)/(b - a))$, i.e. 2α :

$$\rho_A(z) = a + e^{2i\alpha}(z - a) .$$

Par conséquent, en échangeant les rôles de A , B et C , il vient :

les transformations ρ_A , ρ_B et ρ_C s'expriment respectivement en termes complexes

$$\rho_A(z) = a + e^{2i\alpha}(z - a) ,$$

$$\rho_B(z) = b + e^{2i\beta}(z - b) ,$$

$$\rho_C(z) = c + e^{2i\gamma}(z - c) .$$

et sont, respectivement, les rotations de centres A , B et C , et d'angles 2α , 2β et 2γ .

6. Puisque ρ_A est de centre A , r_A s'écrit

$$r_A(z) = a + e^{2i\alpha/3}(z - a) ,$$

et donc, en échangeant les rôles de A , B et C , il vient :

les rotations r_A , r_B et r_C s'expriment respectivement en termes complexes

$$r_A(z) = a + e^{2i\alpha/3}(z - a) ,$$

$$r_B(z) = b + e^{2i\beta/3}(z - b) ,$$

$$r_C(z) = c + e^{2i\gamma/3}(z - c) .$$

7. Soit D la trissectrice du triangle (ABC) au sommet A et D' celle au sommet B définies par

$$D = \left\{ z \in \mathbf{C} \mid \exists \lambda \in \mathbf{R} , z = a + \lambda(b - a)e^{i\alpha/3} \right\}$$

et

$$D' = \left\{ z \in \mathbf{C} \mid \exists \mu \in \mathbf{R} , z = b + \mu(a - b)e^{-i\beta/3} \right\} .$$

Ces deux droites ne sont pas parallèles puisque $\alpha/3$ et $\beta/3$ sont distincts modulo π . Elles ont donc un unique point d'intersection, noté P . Or, par définition de ces droites et des rotations r_A et r_B , la rotation r_B envoie D' sur son symétrique par rapport à (AB) et la rotation r_A envoie la droite symétrique de D par rapport à (AB) sur D , et donc P est fixé par $r_A r_B$.

En termes complexes, l'affixe z_C du point d'intersection s'écrit

$$z_C = a + \lambda(b - a)e^{i\alpha/3} = b + \mu(a - b)e^{-i\beta/3}$$

pour deux réels (uniques) λ et μ . On a donc

$$(b - a) \left(1 - \mu e^{-i\beta/3} - \lambda e^{i\alpha/3} \right) = 0$$

et donc

$$\mu e^{-i\beta/3} + \lambda e^{i\alpha/3} = 1 .$$

On a donc $\lambda = \sin(\beta/3)/\sin((\beta - \alpha)/3)$ et $\mu = \sin(\alpha/3)/\sin((\beta - \alpha)/3)$, comme on le vérifie facilement. Autrement dit :

$$z_C = a + \frac{\sin\left(\frac{\beta}{3}\right)}{\sin\left(\frac{\beta-\alpha}{3}\right)}(b-a)e^{i\alpha/3} = b + \frac{\sin\left(\frac{\alpha}{3}\right)}{\sin\left(\frac{\beta-\alpha}{3}\right)}(a-b)e^{-i\beta/3}.$$

Et on a donc

$$r_B(z_C) = b + e^{2i\beta/3}(z_C - b) = b + \mu(a-b)e^{i\beta/3}.$$

Comme λ et μ sont réels, en passant aux complexes conjugués dans l'égalité $\mu e^{-i\beta/3} + \lambda e^{i\alpha/3} = 1$, on a

$$\mu e^{i\beta/3} + \lambda e^{-i\alpha/3} = 1.$$

D'où

$$r_B(z_C) = b + (a-b) \left(1 - \lambda e^{-i\alpha/3}\right) = a + \lambda(b-a)e^{-i\alpha/3}$$

et donc

$$r_A(r_B(z_C)) = a + \lambda(b-a)e^{i\alpha/3} = z_C.$$

L'équation $r_A r_B(z) = z$ admet comme unique solution le point d'intersection des deux trissectrices intérieures du triangle (ABC) en les sommets A et B les plus proches du côté (AB) , i.e. celles dont les points sont d'affixes définies par

$$D = \left\{ z \in \mathbf{C} \mid \exists \lambda \in \mathbf{R}, z = a + \lambda(b-a)e^{i\alpha/3} \right\}$$

et

$$D' = \left\{ z \in \mathbf{C} \mid \exists \mu \in \mathbf{R}, z = b + \mu(a-b)e^{-i\beta/3} \right\}.$$

8. On a $r_A^3 = \rho_A = \sigma_{CA}\sigma_{AB}$, $r_B^3 = \rho_B = \sigma_{AB}\sigma_{BC}$ et $r_C^3 = \rho_C = \sigma_{BC}\sigma_{CA}$. Par conséquent

$$r_A^3 r_B^3 r_C^3 = \sigma_{CA}\sigma_{AB}\sigma_{AB}\sigma_{BC}\sigma_{BC}\sigma_{CA}$$

et comme les symétries sont des involutions, $\sigma_{AB}\sigma_{AB}$ est l'identité, et de même en permutant A , B et C . D'où

La transformation $r_A^3 r_B^3 r_C^3$ est égale à l'identité.

9. Écrivons r_A , r_B et r_C en termes complexes, de sorte que, pour tout complexe z , on a

$$r_A(z) = uz + r \quad r_B(z) = vz + s \quad \text{et} \quad r_C(z) = wz + t$$

avec $u = e^{2i\alpha}$, $v = e^{2i\beta}$, $w = e^{2i\gamma}$, $r = a(1-u)$, $s = b(1-v)$ et $t = c(1-w)$. Soit z un complexe, on a

$$r_A^3(z) = u(u(uz+r)+r)+r = u^3z + r(1+u+u^2)$$

et de même $r_B^3(z) = v^3z + s(1+v+v^2)$ et $r_C^3(z) = w^3z + t(1+w+w^2)$. Il vient donc

$$r_A^3 r_B^3 r_C^3(z) = u^3 \left(v^3 (w^3 z + t(1+w+w^2)) + s(1+v+v^2) \right) + r(1+u+u^2)$$

soit

$$r_A^3 r_B^3 r_C^3(z) = (uvw)^3 z + (uv)^3 t(1 + w + w^2) + u^3 s(1 + v + v^2) + r(1 + u + u^2)$$

de sorte que $r_A^3 r_B^3 r_C^3$ est l'identité si et seulement si uvw est une racine cubique de l'unité et $(uv)^3 t(1 + w + w^2) + u^3 s(1 + v + v^2) + r(1 + u + u^2)$ est nul.

Remarquons qu'on a $uvw = e^{2i(\alpha+\beta+\gamma)/3} = e^{2i\pi/3} = \rho$ et donc uvw est bien une racine cubique de l'unité. En notant $n = (uv)^3 t(1 + w + w^2) + u^3 s(1 + v + v^2) + r(1 + u + u^2)$, on a donc : $r_A^3 r_B^3 r_C^3$ est l'identité si et seulement si $n = 0$.

Puisque $r_{AB}(z) = uvz + us + r$, on a $(1 - uv)z_C = us + r$ et de même $(1 - vw)z_A = vt + s$ et $(1 - wu)z_B = wr + t$. Par conséquent

$$(1 - uv)(1 - vw)(1 - wu) (z_C + \rho z_A + \rho^2 z_B)$$

s'écrit comme une somme de six termes que l'on peut regrouper deux par deux en mettant r , s ou t en facteur. Le terme correspondant à r est

$$R = (1 - vw)(1 - wu)r + \rho^2(1 - uv)(1 - vw)wr$$

c'est-à-dire, en utilisant $uvw = \rho$ et $\rho^3 = 1$,

$$R = r(1 - vw) (1 - wu + \rho^2 w - \rho^3) = -rw(1 - vw)(u - \rho^2).$$

Or $u(1 - vw) = u - \rho$ et $(u - \rho)(u - \rho^2) = u^2 + u + 1$ puisque ρ et ρ^2 sont les deux racines de l'équation $z^2 + z + 1 = 0$. Il en résulte

$$R = -r \frac{w}{u} (1 + u + u^2).$$

De même, le terme correspondant à s est

$$S = (1 - vw)(1 - wu)us + \rho(1 - uv)(1 - wu)s$$

et il vient

$$S = s(1 - wu) (u - \rho + \rho - \rho uv) = su(1 - wu)(1 - \rho v)$$

et donc, puisque $v(1 - uw) = v - \rho$ et $1 - \rho v = \rho(\rho^2 - v)$,

$$S = -s \frac{u}{v} (v - \rho)(v - \rho^2) = -\rho s \frac{u}{v} (1 + v + v^2).$$

Quant au terme T correspondant à t , on a

$$T = \rho(1 - uv)(1 - wu)vt + \rho^2(1 - uv)(1 - vw)t = \rho t(1 - uv)(v - \rho + \rho - \rho vw)$$

et il vient

$$T = \rho t v(1 - uv)(1 - \rho w) = -\rho^2 t \frac{v}{w} (w - \rho)(w - \rho^2)$$

i.e.

$$T = -\rho^2 t \frac{v}{w} (1 + w + w^2).$$

Remarquons, enfin,

$$\rho \frac{u}{v} = u^2 w = \frac{w}{u} u^3 \quad \text{et} \quad \rho^2 \frac{v}{w} = u^2 v^3 w = \frac{w}{u} (uv)^3$$

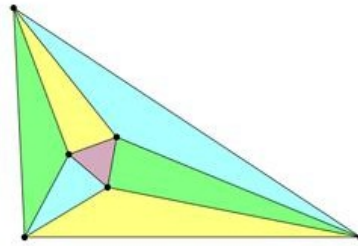
et donc

$$\begin{aligned} (1-uv)(1-vw)(1-wu)(z_C + \rho z_A + \rho^2 z_B) &= R + S + T \\ &= -\frac{w}{u} (r(1+u+u^2) + \\ &\quad u^3 s(1+v+v^2) + \\ &\quad (uv)^3 t(1+w+w^2)) \\ &= -\frac{w}{u} n. \end{aligned}$$

Remarquons encore que $uv = 1$ si et seulement si $w = \rho$. Mais si $w = \rho$, $w^3 = 1$ et r_C^3 est l'identité. Comme $r_C^3 = \rho_C$ ceci est impossible car les trois points A , B et C ne sont pas alignés. Pour la même raison vw et wu sont distincts de 1, de sorte que $n = 0$ si et seulement si $z_C + \rho z_A + \rho^2 z_B = 0$.

La transformation $r_A^3 r_B^3 r_C^3$ est l'identité si et seulement si $z_C + \rho z_A + \rho^2 z_B = 0$.

10. Il résulte des deux questions précédentes que $z_C + \rho z_A + \rho^2 z_B = 0$, et donc que (z_C, z_A, z_B) sont les affixes d'un triangle équilatéral, d'après la question 2.



Les intersections des trissectrices intérieures des angles d'un triangle forment un triangle équilatéral.


Question subsidiaire :



James Gregory



Frank Morley



Abraham de Moivre



Antonio Gaudi